





# Lösungen Klasse 2 Sachunterricht – 04.01-08.01.2021





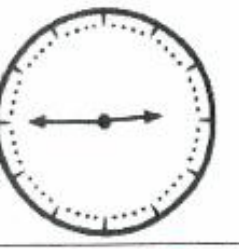












Montag, 04.01.2021 – Station 8

Station 8	Name: <b>Lösung</b>	Datum:
-----------	---------------------	--------

Zu jeder Uhr gehören 3 Kärtchen mit unterschiedlichen Zeitangaben.  
Schneide alle Kärtchen aus und klebe sie unter die passende Uhr.

			
09:15 Uhr	06:30 Uhr	02:45 Uhr	05:00 Uhr
21:15 Uhr	18:30 Uhr	14:45 Uhr	17:00 Uhr
Viertel nach neun	halb sieben	Viertel vor drei	fünf Uhr

Uhrzeiten - Schreib- und Sprechweisen 1

Station 10	Name: Lösung	Datum:	
 <h2 style="margin: 0;">Schreibe die Uhrzeit auf!</h2>			
			
07:20 Uhr	04:45 Uhr	02:25 Uhr	02:45 Uhr
19:20 Uhr	16:45 Uhr	14:25 Uhr	14:45 Uhr
			
01:50 Uhr	06:15 Uhr	01:05 Uhr	02:00 Uhr
13:50 Uhr	18:15 Uhr	13:05 Uhr	14:00 Uhr
			
03:00 Uhr	11:20 Uhr	05:00 Uhr	10:50 Uhr
15:00 Uhr	23:20 Uhr	17:00 Uhr	22:50 Uhr
			
08:40 Uhr	08:00 Uhr	09:00 Uhr	11:35 Uhr
20:40 Uhr	20:00 Uhr	21:00 Uhr	23:35 Uhr