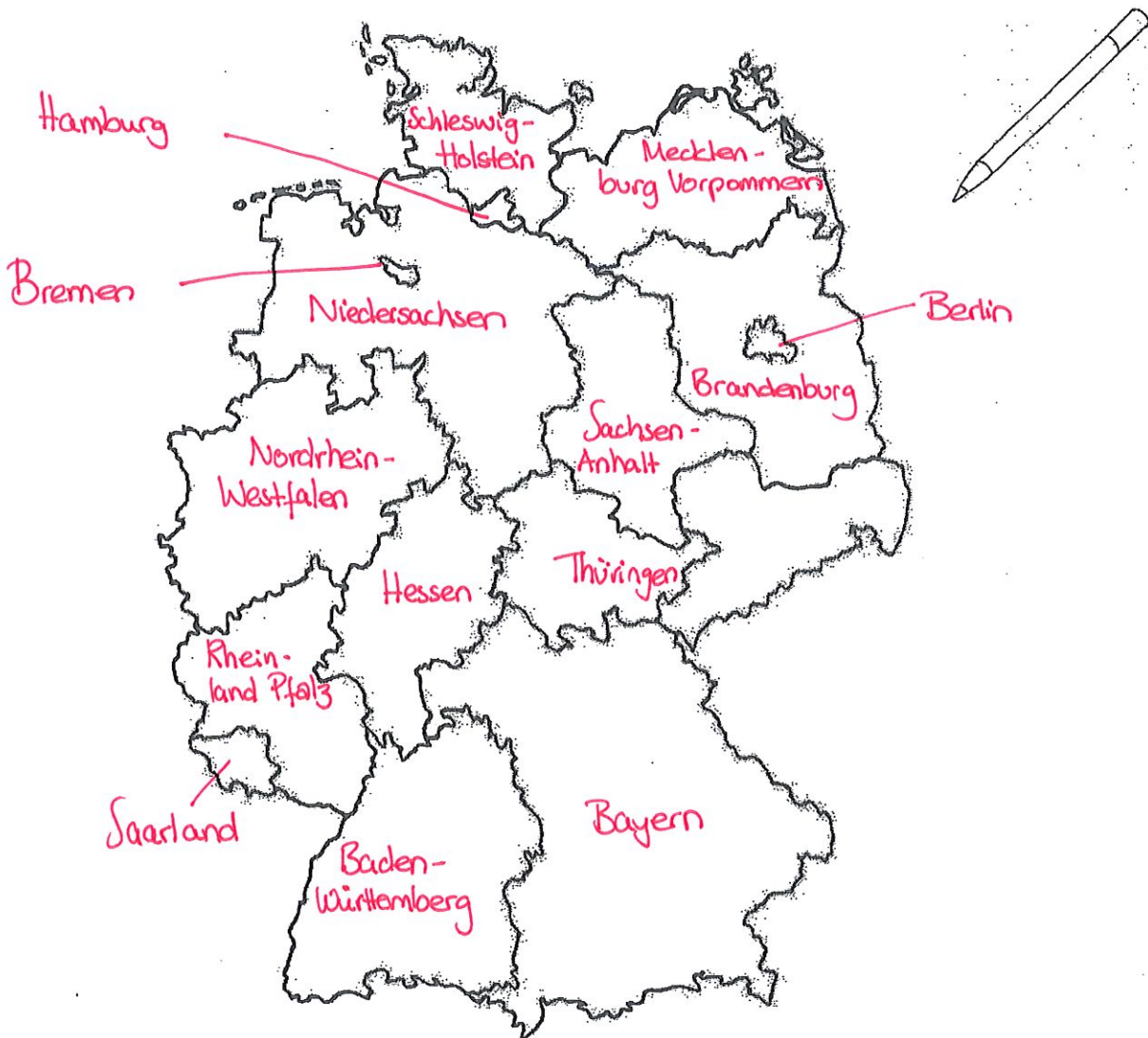




I. Deutschland kennenlernen  
4. Die Bundesländer

1. Deutschland ist in insgesamt 16 Bundesländer unterteilt. Auf der Zeichnung unten siehst du die Umriss aller Bundesländer.
2. Welcher Umriss gehört zu welchem Bundesland? Ordne die Namen unter der Zeichnung dem richtigen Bundesland zu und schreibe die Namen in die Umrisse!



<del>Niedersachsen</del>	<del>Bayern</del>	<del>Saarland</del>	<del>Bremen</del>
<del>Hessen</del>	<del>Baden-Württemberg</del>	<del>Sachsen-Anhalt</del>	<del>Hamburg</del>
<del>Nordrhein-Westfalen</del>	<del>Mecklenburg-Vorpommern</del>	<del>Brandenburg</del>	<del>Sachsen</del>
<del>Rheinland-Pfalz</del>	<del>Berlin</del>	<del>Schleswig-Holstein</del>	<del>Thüringen</del>

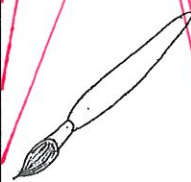


I. Deutschland kennenlernen

10. Bundesländer und ihre Hauptstädte

1. Welches Bundesland hat welche Hauptstadt?
2. Male die zusammengehörenden Bundesländer und Hauptstädte in derselben Farbe an.
3. Schreibe dann in dein Heft: Kiel ist die Hauptstadt von...
4. Schreibe zu jedem Bundesland einen Satz auf.

Bundesland	Hauptstadt
Baden-Württemberg	Kiel
Bayern	Magdeburg
Berlin	Wiesbaden
Brandenburg	Hamburg
Bremen	München
Hamburg	Stuttgart
Hessen	Berlin
Mecklenburg-Vorpommern	Saarbrücken
Niedersachsen	Erfurt
Nordrhein-Westfalen	Dresden
Rheinland-Pfalz	Hannover
Saarland	Mainz
Sachsen	Schwerin
Sachsen-Anhalt	Düsseldorf
Schleswig-Holstein	Bremen
Thüringen	Potsdam



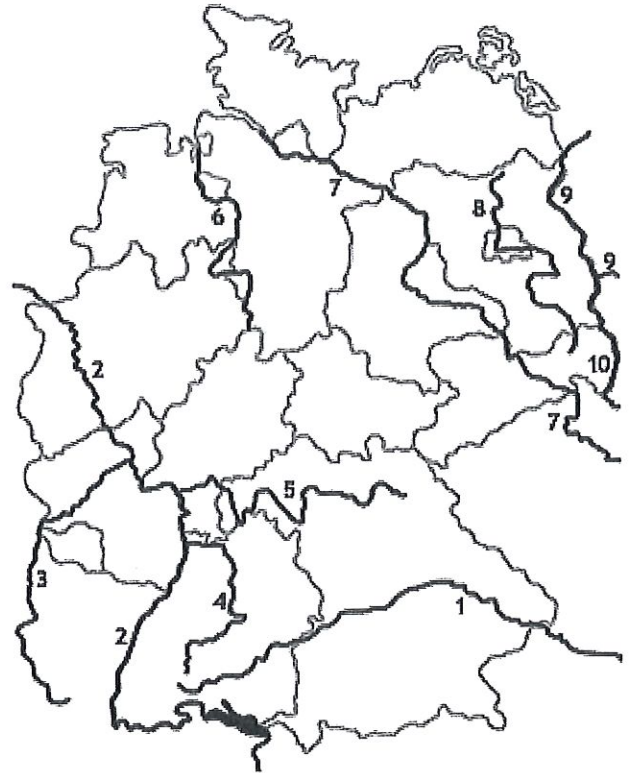
Deutschland  
Flüsse und Gebirge

Benenne die Flüsse Deutschlands und zeichne die dir bekannten Gebirge ein.

Gerne kannst du einen Atlas als Hilfe benutzen.

Zeichne Gebirge grün ein und beziffer sie mit einem Großbuchstaben. (A, B, C...)

1	Donau
2	Rhein
3	Mosel
4	Neckar
5	Main
6	Weser
7	Elbe
8	Havel
9	Oder
10	Spree



Gebirge und Berge

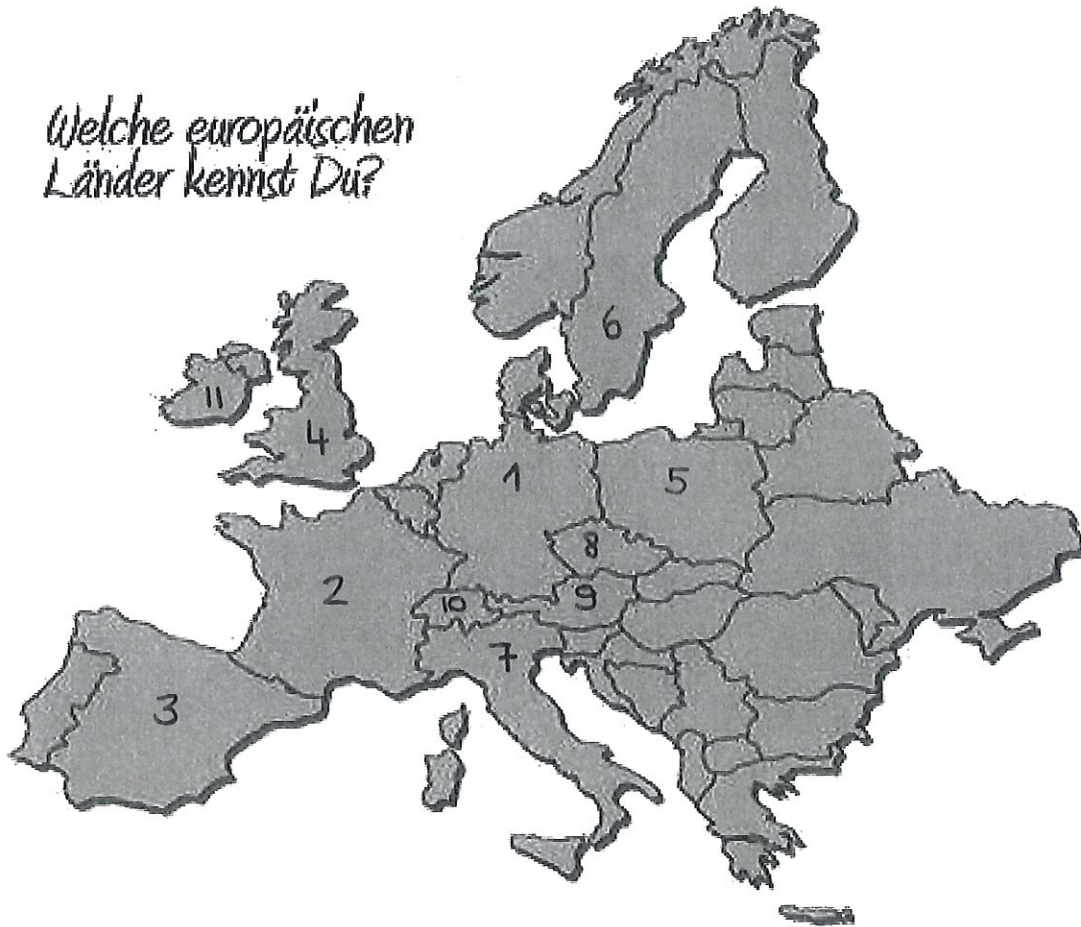
1	
2	
3	
4	
5	
6	
7	
8	
9	
10	



Europa  
Länder und Hauptstädte

Benenne die Länder Europas und schreibe die Hauptstädte dazu.

Welche europäischen  
Länder kennst Du?

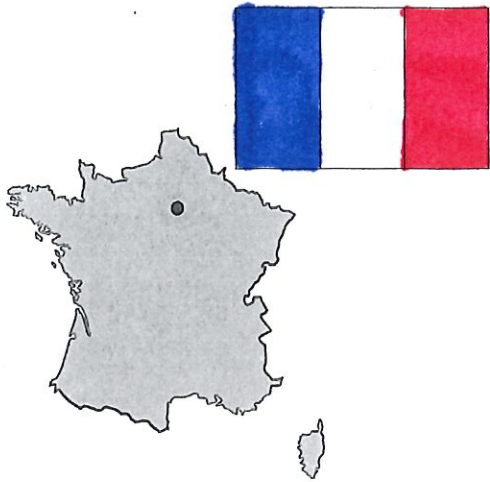


	Name des Landes	Hauptstadt
1	Deutschland	Berlin
2	Frankreich	Paris
3	Spanien	Madrid
4	Groß-Britannien / England	London
5	Polen	Warschau
6	Schweden	Stockholm
7	Italien	Rom
8	Tschechische Republik	Prag
9	Österreich	Wien
10	Schweiz	Bern
11	Irland	Dublin


# Länder in Europa

- ① Schreibe die Namen der Länder und der Landeshauptstädte unter die Karten.  
Male die Flaggen mithilfe des Schulbuches in den richtigen Farben an.


Lösung Nr. 5



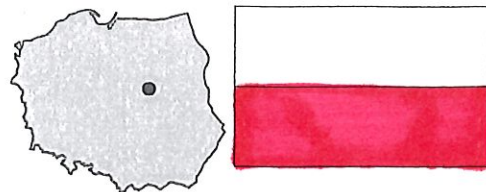
① Frankreich  
Paris



④ Schweden  
Stockholm



② Österreich  
Wien



⑤ Polen  
Warschau



③ Italien  
Rom



⑥ Deutschland  
Berlin